

وقت: 10 منٹ













واقفیت عامہ (سوئم) ٹیسٹ نمبر 2

کل نمبر: 10

دوسرا مہینا، دوسرا ہفتہ، دوسرا دن اسلیپس: باب نمبر 3 (دوسرا نصف): مشق سوال نمبر 1, 2

سوال نمبر 1 - نیچے دی گئی تصاویر میں سے خطرے سے دو چار (نایاب) اور ناپید جانوروں کو پہچانیں۔

(4) خطرے سے دو چار جانوروں کے گرد سرخ اور ناپید جانوروں کے گرد سیاہ دائرہ لگائیں۔

			
جنگلی تیل	ڈوڈو برڈ	مارخور	گائے
			
خرگوش	تسمانیا کاناٹیگر	بھو رار بچھ	شیر
			
ڈائینوسار	مارکو پولو بھیسٹر	کودا	کالا ہرن

سوال نمبر 2: آپ کے خیال میں کیا ہوگا اگر:

(6)

i - قدرتی گیس ختم ہو جائے:

ii - معدنیات ختم ہو جائیں:

iii - جنگلات ختم ہو جائیں:

وقت: 10 منٹ













واقفیت عامہ (سوئم) ٹیسٹ نمبر 2

کل نمبر: 10

دوسرا مہینا، دوسرا ہفتہ، دوسرا دن اسلیپس: باب نمبر 3 (دوسرا نصف): مشق سوال نمبر 1, 2

سوال نمبر 1 - نیچے دی گئی تصاویر میں سے خطرے سے دو چار (نایاب) اور ناپید جانوروں کو پہچانیں۔

(4) خطرے سے دو چار جانوروں کے گرد سرخ اور ناپید جانوروں کے گرد سیاہ دائرہ لگائیں۔

			
جنگلی تیل	ڈوڈو برڈ	مارخور	گائے
			
خرگوش	تسمانیا کاناٹیگر	بھو رار بچھ	شیر
			
ڈائینوسار	مارکو پولو بھیسٹر	کودا	کالا ہرن

سوال نمبر 2: آپ کے خیال میں کیا ہوگا اگر:

(6)

i - قدرتی گیس ختم ہو جائے:

ii - معدنیات ختم ہو جائیں:

iii - جنگلات ختم ہو جائیں: